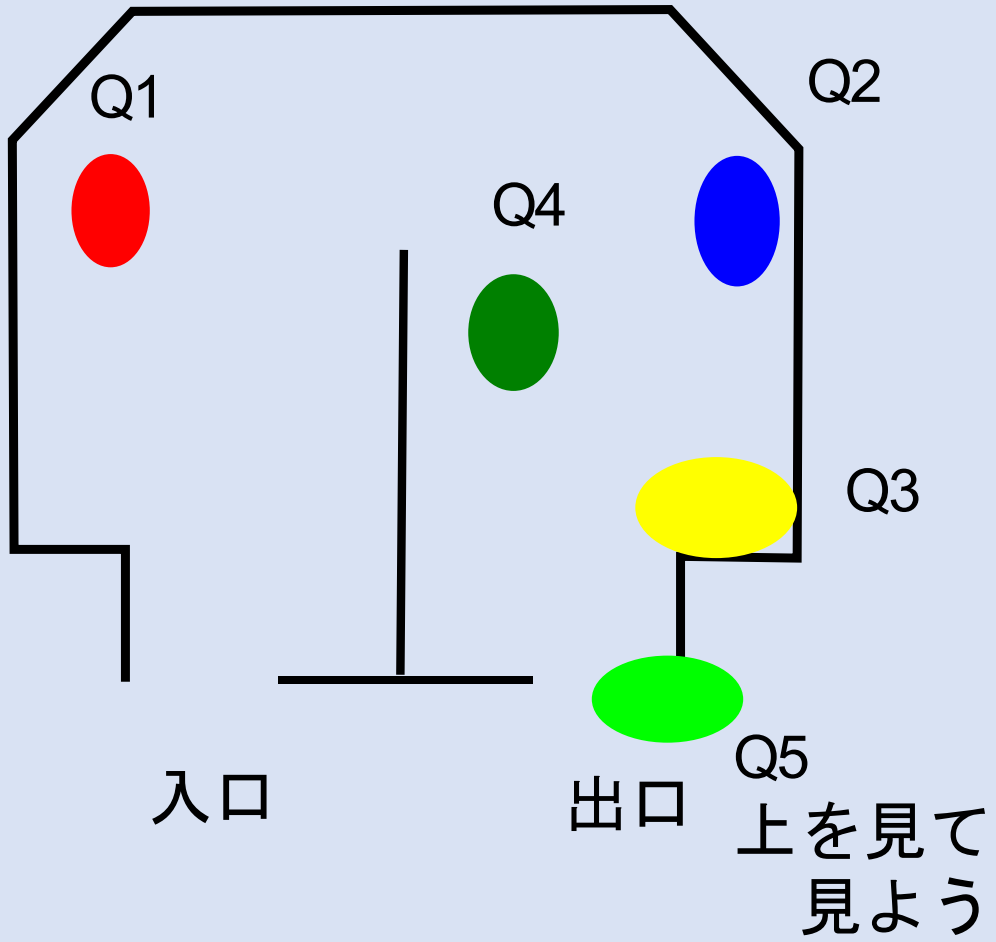



略地図

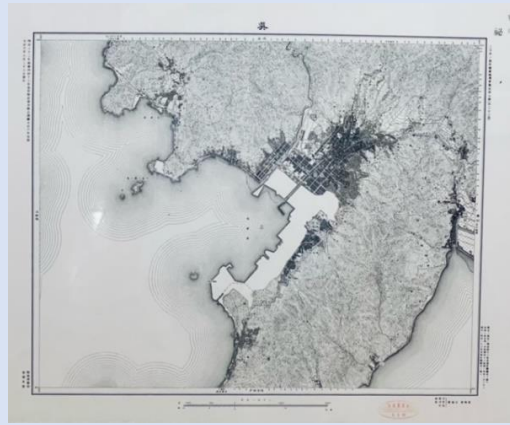


一 港のあらし

Q1: 地図の一部が白く塗られているのは
なぜだろう? 3つの中から1つ選んでね!



明治30年代の呉




大正時代の呉

- ① 書き忘れた
- ② その場所は何もなかった
- ③ 軍事機密を守るため

軍事機密とは、軍事上の秘密のことだよ!

A:



二 . 港を模る海軍の期待


Q2: 船を建造したり修理したりする場所である
ドック(船渠)は、地図の中には何個あるか
な? この中から選んでね!

- ① 6個
- ② 5個
- ③ 9個

呉港 軍機第 232 号



呉港 軍機第 232 号一部拡大



*この写真と同じ地図を探して、確認してみよう!



A:

三 . 「大和」と「武蔵」のふるさと呉

Q3: 戦艦「武蔵」が停泊していたのは、第四
船渠と呼ばれていた場所だよ！

どこにあるかな？

Q2の地図の中から探してね！



この画像に写る軍艦を探してみよう！

四. 米国のまなざしと戦争の風景


Q4: 米軍は何故、日本の軍事機密の一つを知っていたよ。下の写真は、戦争中に発刊された米国の軍事雑誌に載っていた日本の軍艦だよ。この軍艦が何かわかるかな？ 3つから選んでね！

①武蔵

②大和

こんごう

③金剛



日本では最重要軍事
機密としていたよ！

A:



五. 歴史をつなぐ風景の証し^{あか}

Q5: 出口の上を見てみよう。今の呉港の風景で
昔はここに軍港^{ぐんこう}があったよ。

実は、戦艦「大和」が建造されたドックが今でも
もあるよ！どこにあるだろう？

ヒント:

「大和の〇〇〇〇」と書いてある場所だよ！
上の地図を見てみよう！



A: 大和の

これまで呉が軍港として歩んでいった歴史を見てきたけど、皆はどう感じたかな？



こたえ



← 答えの QR コードはコチラ!!



企画展こども用コンテンツは、こちらからもダウンロードできます。→

※この「戦艦『大和』と呉軍港クイズ」は、令和3年度は博物館実習生が作成しました。